

平成30年度チャレンジシート（小5・社会科） 正答例

【社会科1】 H25 愛媛県学力診断調査（四）

- 1 A ユーラシア大陸
B 太平洋
- 2 ア・ウ（完全正答）
- 3 D
- 4 ウ

【社会科2】 H26 愛媛県学力診断調査（三） 2・3

- 2 エ
- 3 ① エ
② 中国（中華人民共和国）

【社会科3】 H27 愛媛県学力診断調査（四）

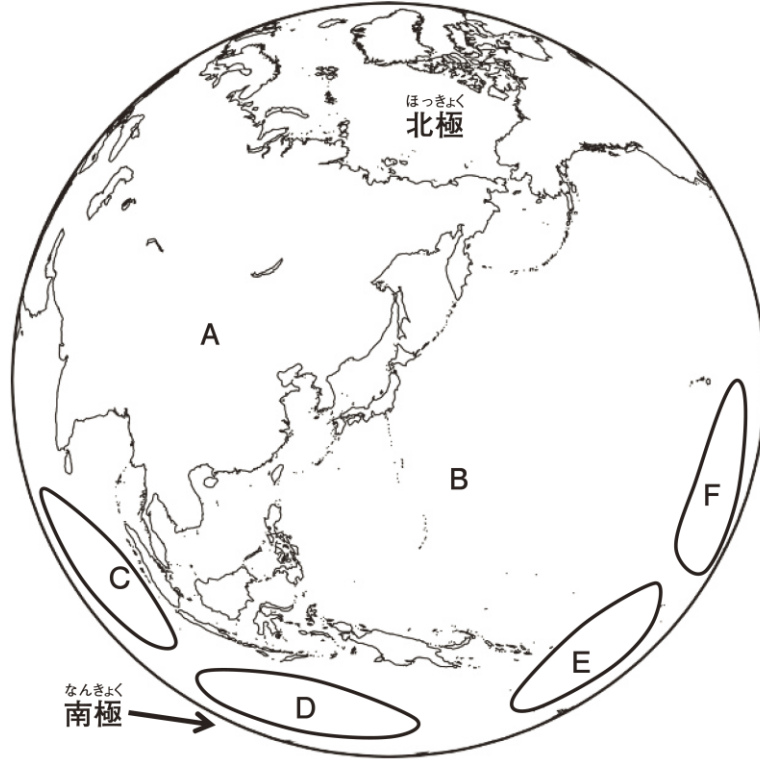
- 1 2
- 2 ほかの産地のきゅうりが出回らない時期（同意可）
- 3 ① 北海道
② あたたかい
③ イ



小5 社会科 1	平成25年度 愛媛県学力診断調査 (四)	名前 _____ 組 番 _____
----------	-------------------------	-----------------------

(四) 地球儀をかんとんに表した次の図を見て、1～4の各問いに答えましょう。

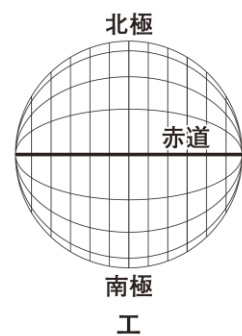

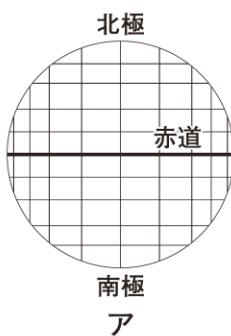
図



- 1 図中にある、Aの大陸、Bの海洋の名前を書きましょう。(ひらがなでもかまいません。)
- 2 Aの大陸に位置する国を次のア～エの中からあるだけ選んで、その記号を書きましょう。

ア ベトナム <small>しゃかいしゆぎきょうわこく</small> 社会主義共和国	イ フィリピン共和国
ウ モンゴル国	エ アルゼンチン共和国

- 3 オーストラリア大陸の位置する場所を、図中C～Fから1つ選んで、その記号を書きましょう。
- 4 地球儀に経線と緯線が正しく示された図を、次のア～エの中から1つ選んで、その記号を書きましょう。

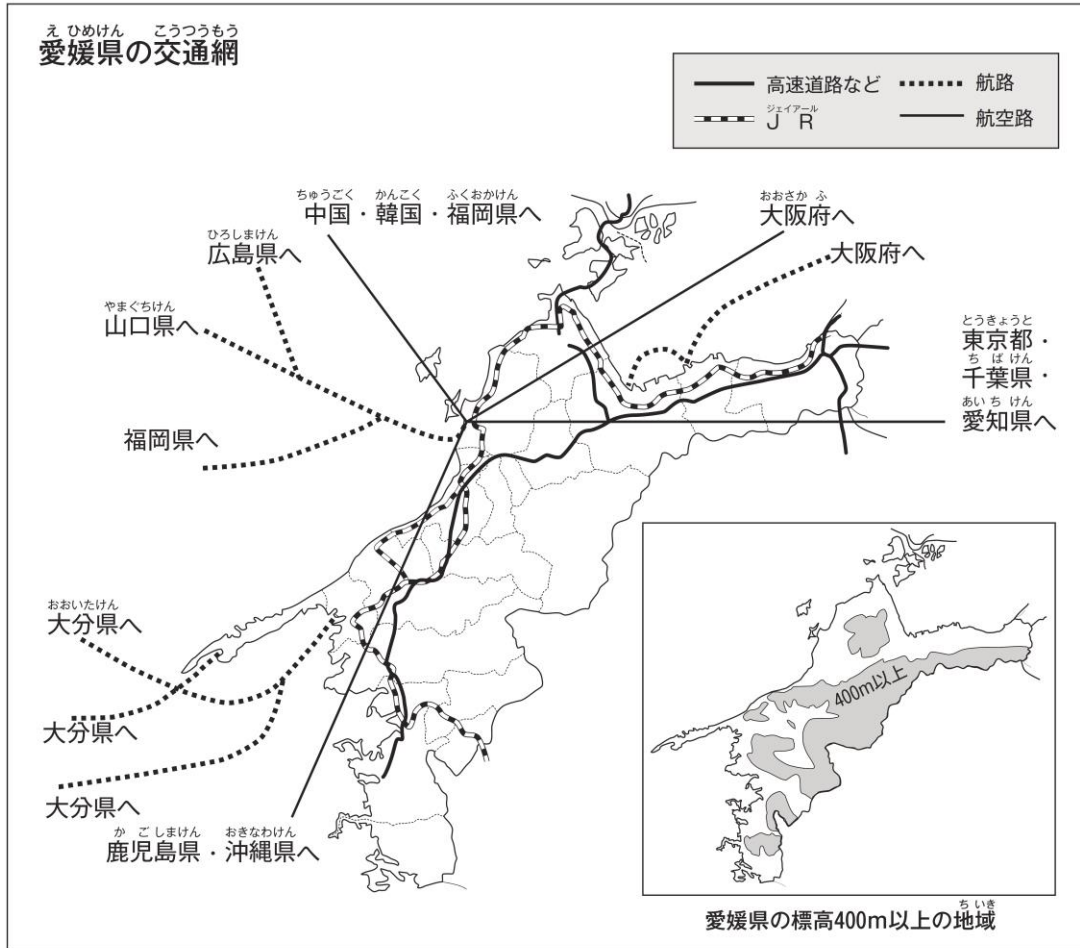




小5 社会科2	平成26年度 愛媛県学力診断調査(三)2・3	名前	組 番
----------------	---------------------------	----	-----

(三) 次の資料を見て、1～3の各問いに答えましょう。

資料1



2 愛媛県の交通網について、資料1を正しく読み取っていないものを、次のア～エの中から1つ選んで、その記号を書きましょう。

- ア JRは、そのほとんどが海ぞいの平地を走っていて、四国の他の県とつながっています。
- イ 航空路によって、東京や大阪、韓国などと結ばれています。
- ウ 高速道路は、平地と山地のさかい目あたりを走っています。県の東のはしで道路が分かれ、四国の他の県とつながっています。
- エ 九州に船で行くには、南予からの航路しかありません。

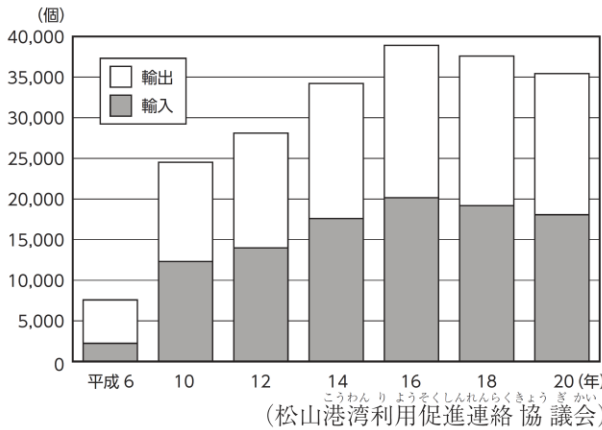
- 3 けんいちさんたちは、愛媛県の貿易を調べるために、松山港で働いている海野さんから話を聞き、資料をもらいました。下の①、②の各問いに答えましょう。

海野さんの話



愛媛県では、松山港の整備を行い、平成6年からコンテナ貨物を取り扱うことができるようになりました。2年後、松山港につくられたアイロットでは、外国から輸入された品物を保管したり、貿易相手国への連絡をしたりしています。以前は、外国からの荷物は、一度大阪などの大きな港に運ばれていました。今は、アイロットで手続きができるようになり、時間の短縮やお金の節約につながっています。

資料2 松山港のコンテナ貨物取り扱い量



資料3 愛媛県の主な輸出相手国(地域)

順位	国名(地域名)	金額: 百万円
1	パナマ	165,684
2	中国	162,168
3	韓国	87,853
4	台湾	79,301
5	シンガポール	47,357

(2013年分 神戸税関ホームページ)

貿易についてのまとめ

- 資料2の中で、松山港のコンテナ貨物取り扱い量の一番多い年は、一番少ない年の約(あ)倍の量を取り扱っています。
- 平成6年から平成10年にかけて、松山港のコンテナ貨物取り扱い量が、大はばに増えた理由として、平成(い)年にアイロットがつくられたことや松山港の整備などが考えられます。
- 愛媛県の主な輸出相手国(地域)を見ると、愛媛県と航空路によってつながっている(う)や韓国が上位になっています。

- ① 貿易についてのまとめ中(あ)、(い)に当てはまる数の組み合わせとして正しいものを、次のア~エの中から1つ選んで、その記号を書きましょう。

ア	あ: 9	い: 6	イ	あ: 5	い: 6
ウ	あ: 9	い: 8	エ	あ: 5	い: 8

- ② 貿易についてのまとめ中(う)に当てはまる国名(地域名)を書きましょう。(ひらがなでもかまいません。)



<p>小5 社会科3</p>	<p>平成27年度 愛媛県学力診断調査(四)</p>	<p>名前 組 番</p>
----------------	--------------------------------	---------------

(四) 次のノートを見て、1～3の各問いに答えましょう。

ノート1

ちくさん
《畜産の生産》

畜産の生産のさかな地域

都道府県別の
肉牛・乳牛の頭数
(2013年)

単位：万頭
全国

● 肉牛 264万頭
○ 乳牛 142万頭

0 200km
(畜産統計)

かごしまけん
鹿児島県で肉牛を育てている木下さんの話より

- 鹿児島県は、気候があたたかい。
- えさになる草を大量に育てることができる広い土地がある。
- 鹿児島県の肉牛の総飼育頭数は、約34万頭で、全国(あ)位である。(2013年)

【工夫している点】

- ・風通しをよくし、せいけつに保つため、広くてかべのない牛しゃで育てている。
- ・畑の野菜くずをえさとしてあたえている。

《野菜の生産》

野菜の生産のさかな地域

都道府県別の野菜の生産額
(2011年)

全国
2兆1343億円

● 1000億円以上
○ 500～1000億円
○ 300～500億円

0 200km
(生産農業所得統計)

みやざきけん
宮崎県できゅうりをつくっている上田さんの話より

- 宮崎県は、気候があたたかい。
- 宮崎県は、野菜の生産額を見ると全国上位とはいえないが、きゅうりの生産がさかな県である。

【工夫している点】

- ・きゅうりは、気温が低いと育たないため、だんぼうで温めたビニールハウスで育て、生長を早めることで、(い)に出荷することができる。

1 ノート1中の(あ)に当てはまる数字を書きましょう。

資料1 きゅうりの生産量上位県

順位	県名	生産量(万t)
1	宮崎県	6.1
2	群馬県	5.7
3	埼玉県	4.9

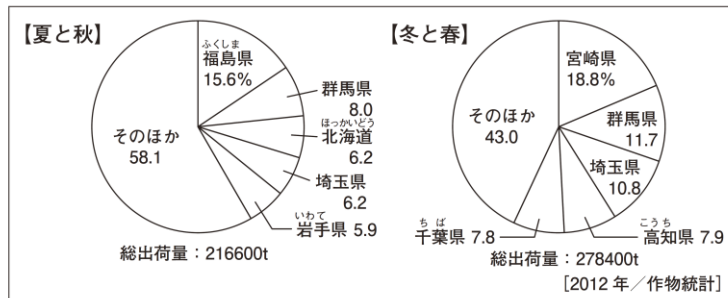
総生産量：58.7万t [2012年農林水産省統計表]

まとめ

宮崎県のきゅうりの生産量は、全国1位です。

出荷時期を見てみると、宮崎県は、群馬県や埼玉県とはちがひ、夏と秋の出荷量のわりあひが上位5県に入っています。しかし、冬と春の出荷量のわりあひは、全国1位となっています。このことから、宮崎県では、(い)にたくさんのきゅうりを出荷していることがわかります。

資料2 都道府県別のきゅうりの出荷量のわりあひ



2 しょうたさんは、資料1、2をもとに、上のまとめを書きました。ノート1とまとめ中の(い)には、同じ言葉が当てはまります。その言葉を、次の【 】の言葉をすべて使って書きましよう。

【ほかの産地 時期】

3 しょうたさんは、調べて分かったことをノート2にまとめました。

ノート2

《調べて分かったこと》

- ① 乳牛や肉牛を育てる畜産は、えさになる牧草をつくる広い土地が必要であるため、主に(う)や九州地方で行われています。
- ② 宮崎県や高知県では、冬でも(え)気候を生かして、野菜を生産しています。それに対して、1学期に学習した長野県の高原や群馬県、(う)などは、夏でもすずしい気候を生かして、野菜を生産しています。

《まとめ》

わたしたちの食生活を支えている農産物は、(お)。

- ① ノート2中の(う)に当てはまる都道府県名を書きましよう。(ひらがなでもかまいません。)
- ② ノート2中の(え)に当てはまる言葉を書きましよう。
- ③ ノート2中の(お)に当てはまる言葉を、次のア～エの中から1つ選んで、その記号を書きましよう。

- ア 面積が広い都道府県だけで生産されています。
- イ 地域の自然条件を生かし、工夫をしながら生産されています。
- ウ 人口が集中している地域だけでさかんに生産されています。
- エ 日本で生産することなく、すべて外国から輸入しています。

No. 2 九州地方(都道府県名)	年 組
	名前

/16問

次の地図を見て、㉠～㉡の県名と県庁所在地名をそれぞれ書きましょう。

地図



	県名	県庁所在地名
㉠	①	②
㉡	③	④
㉢	⑤	⑥
㉣	⑦	⑧
㉤	⑨	⑩
㉥	⑪	⑫
㉦	⑬	⑭
㉧	⑮	⑯

- ① 福岡県
- ② 福岡市
- ③ 佐賀県
- ④ 佐賀市
- ⑤ 長崎県
- ⑥ 長崎市
- ⑦ 大分県
- ⑧ 大分市
- ⑨ 熊本県
- ⑩ 熊本市
- ⑪ 宮崎県
- ⑫ 宮崎市
- ⑬ 鹿児島県
- ⑭ 鹿児島市
- ⑮ 沖縄県
- ⑯ 那覇市

九州地方は8県あり、県名と県庁所在地名が異なるのは、おきなわけん 沖縄県だけだね。



No. 4	中国・四国地方 (都道府県名)	年 組
		名前

/18問

次の地図を見て、㉠～㉟の県名と県庁所在地名をそれぞれ書きましょう。

地図



	県名	県庁所在地名
㉠	①	②
㉡	③	④
㉢	⑤	⑥
㉣	⑦	⑧
㉤	⑨	⑩
㉥	⑪	⑫
㉦	⑬	⑭
㉧	⑮	⑯
㉨	⑰	⑱

- ① 島根県
- ② 松江市
- ③ 鳥取県
- ④ 鳥取市
- ⑤ 山口県
- ⑥ 山口市
- ⑦ 広島県
- ⑧ 広島市
- ⑨ 岡山県
- ⑩ 岡山市
- ⑪ 愛媛県
- ⑫ 松山市
- ⑬ 香川県
- ⑭ 高松市
- ⑮ 高知県
- ⑯ 高知市
- ⑰ 徳島県
- ⑱ 徳島市

しゅうがくりょこう
修学旅行で行く県があるかな？

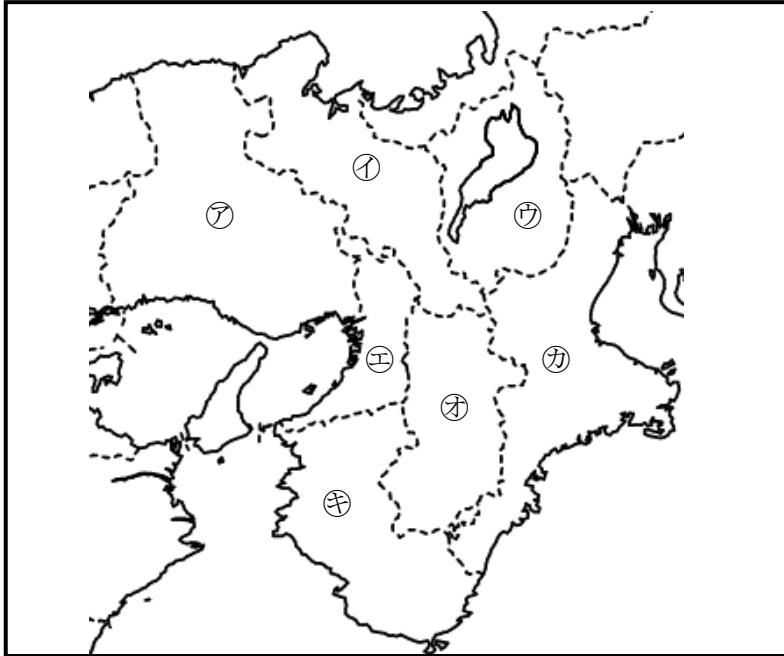


No. 6 近畿地方(都道府県名)	年 組
	名前

/14問

次の地図を見て、㊶～㊿の府県名と府県庁所在地名をそれぞれ書きましょう。

地図



	府県名	府県庁所在地名
㊶	①	②
㊷	③	④
㊸	⑤	⑥
㊹	⑦	⑧
㊺	⑨	⑩
㊻	⑪	⑫
㊼	⑬	⑭

- ① 兵庫県 ひょうごけん
- ② 神戸市 こうべし
- ③ 京都府 きょうとふ
- ④ 京都市 きょうとし
- ⑤ 滋賀県 しがけん
- ⑥ 大津市 おおつし
- ⑦ 大阪府 おおさかふ
- ⑧ 大阪市 おおさかし
- ⑨ 奈良県 ならけん
- ⑩ 奈良市 ならし
- ⑪ 三重県 みえけん
- ⑫ 津市 つし
- ⑬ 和歌山県 わかやまけん
- ⑭ 和歌山市 わかやまし

「府」がつく都道府県は、二つとも近畿地方にあるんだね。



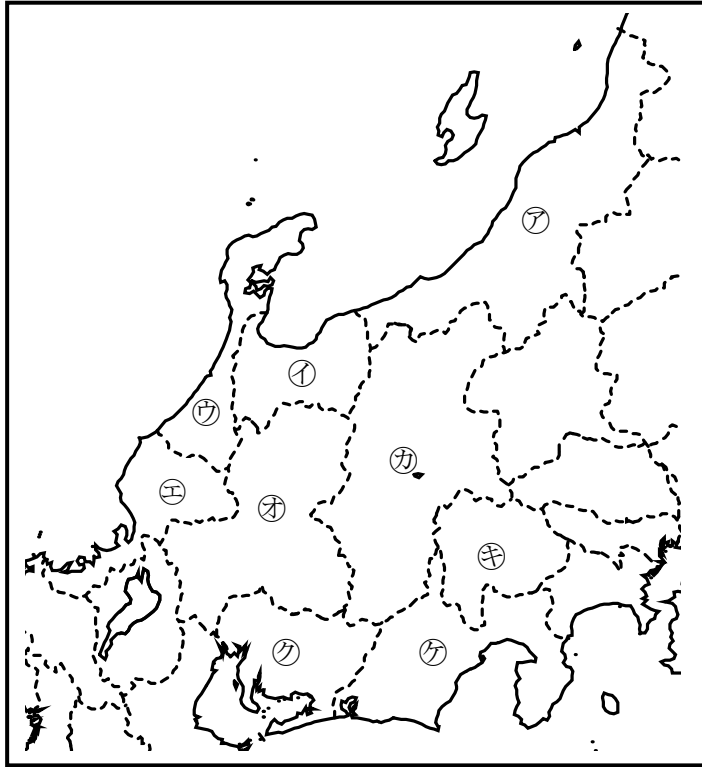
【解答】

No. 8 中部地方(都道府県名)	年 組
	名前

/18問

次の地図を見て、㉑～㉗の県名と県庁所在地名をそれぞれ書きましょう。

地図



	県名	県庁所在地名
㉑	①	②
㉒	③	④
㉓	⑤	⑥
㉔	⑦	⑧
㉕	⑨	⑩
㉖	⑪	⑫
㉗	⑬	⑭
㉘	⑮	⑯
㉙	⑰	⑱

- 【解答】
- ① 新潟県 にいがたけん
 - ② 新潟市 にいがたし
 - ③ 富山県 とやまけん
 - ④ 富山市 とやまし
 - ⑤ 石川県 いしかわけん
 - ⑥ 金沢市 かなざわし
 - ⑦ 福井県 ふくいけん
 - ⑧ 福井市 ふくいし
 - ⑨ 岐阜県 ぎふけん
 - ⑩ 岐阜市 ぎふし
 - ⑪ 長野県 ながのけん
 - ⑫ 長野市 ながのし
 - ⑬ 山梨県 やまなしけん
 - ⑭ 甲府市 こうふし
 - ⑮ 愛知県 あいちけん
 - ⑯ 名古屋市 なごやし
 - ⑰ 静岡県 しずおかけん
 - ⑱ 静岡市 しずおかし

ちゅうぶ ちほう
中部地方には、海に面していない県が
3県あるんだね。

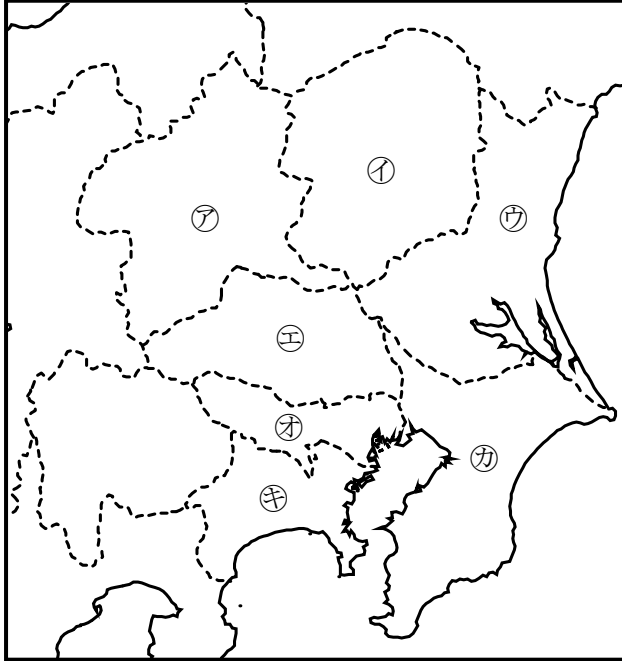


No.10 関東地方(都道府県名)	年 組
	名前

/14問

次の地図を見て、㉗～㉝の都県名と都県庁所在地名をそれぞれ書きましょう。

地図



	都県名	都県庁所在地名
㉗	①	②
㉘	③	④
㉙	⑤	⑥
㉚	⑦	⑧
㉛	⑨	⑩
㉜	⑪	⑫
㉝	⑬	⑭

- ① 群馬県
- ② 前橋市
- ③ 栃木県
- ④ 宇都宮市
- ⑤ 茨城県
- ⑥ 水戸市
- ⑦ 埼玉県
- ⑧ さいたま市
- ⑨ 東京都
- ⑩ 東京(23区)
- ⑪ 千葉県
- ⑫ 千葉市
- ⑬ 神奈川県
- ⑭ 横浜市

関東地方には、県庁所在地名に「ひらがな」が使われている市があるね。



No.12 北海道地方・東北地方 (都道府県名)	年 組
	名前

/14問

次の地図を見て、㊶～㊿の道県名と道県庁所在地名をそれぞれ書きましょう。

地図



	道県名	道県庁所在地名
㊶	①	②
㊷	③	④
㊸	⑤	⑥
㊹	⑦	⑧
㊺	⑨	⑩
㊻	⑪	⑫
㊼	⑬	⑭

- ① 北海道
- ② 札幌市
- ③ 青森県
- ④ 青森市
- ⑤ 秋田県
- ⑥ 秋田市
- ⑦ 岩手県
- ⑧ 盛岡市
- ⑨ 山形県
- ⑩ 山形市
- ⑪ 宮城県
- ⑫ 仙台市
- ⑬ 福島県
- ⑭ 福島市

【解答】

北海道地方・東北地方には、面積の広い都道府県ベスト3があるよ。

